










Nivel: 6°A / 6°B

Educadora diferencial: Constanza Bello/ Fernanda Felbol D.

Correo electrónico: constanzabello.slm@revic.org
stephaniefelbol.slm@revic.org

Semana: Del 21 al 25 de Septiembre 2020.

- ❖ **Escribe** en tu cuaderno la tarea que se presenta.
- ❖ Realiza la tarea según los **datos** que se presentan.
- ❖ **Observa** el recuadro y **contesta** las preguntas.

	A	B	C	D	E
1					
2					A
3					
4					
5		2			

Preguntas:

*Ejemplo: ¿En qué celda está la chinita? La chinita está en la celda D-5.

1. ¿En qué celda está el lápiz? _____
2. ¿En qué celda está el árbol? _____
3. ¿Qué hay en la celda C-2? _____
4. ¿Qué hay en la celda E-2? _____
5. Rodea el dibujo de la celda D-3
6. Une con una línea el dibujo de la celda B-1 y D-3
7. Dibuja un círculo en la celda C-4
8. Colorea la celda que hay encima de la A-4.